

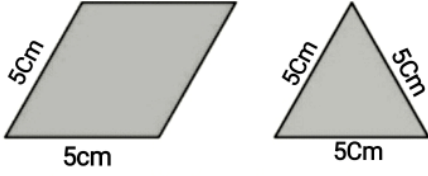
# UNIT TEST - MATHEMATICS V

TIME:40 Minutes

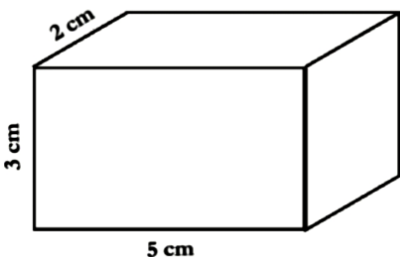
MARK:25

വരകളും വട്ടങ്ങളും & സംഖ്യാ ലോകം

1) താഴെ കൊടുത്തിരിക്കുന്ന ചിത്രങ്ങൾ മട്ടത്തിന്റെ സഹായത്തോടെ വരക്കുക

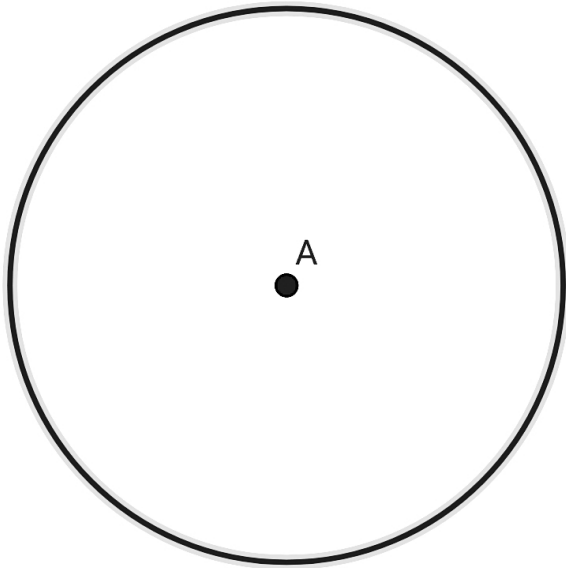


2) താഴെ കൊടുത്തിരിക്കുന്ന ചിത്രം മട്ടത്തിന്റെ സഹായത്തോടെ വരക്കുക



3) ചിത്രത്തിലെ വൃത്തത്തിന്റെ ആരം അളന്നെഴുതുക


4Cm ആരുമുള്ള ഒരു വൃത്തം വരയ്ക്കുക



4) അക്ഷരത്തിലെഴുതുക 235417

അക്കത്തിലെഴുതുക : ഇരുപത്തിയഞ്ച് ലക്ഷത്തി മുപ്പത്തയാറായിരത്തി ഇരുന്നൂറ്റി പതിനേഴ്

5)



അക്കമെരത്തിലെ അക്കങ്ങൾ ഉപയോഗിച്ച് നിർമ്മിക്കാവുന്ന ഏറ്റവും വലിയ സംഖ്യ ഏത്

അക്കമെരത്തിലെ അക്കങ്ങൾ ഉപയോഗിച്ച് നിർമ്മിക്കാവുന്ന ഏറ്റവും ചെറിയ സംഖ്യ ഏത്