


I

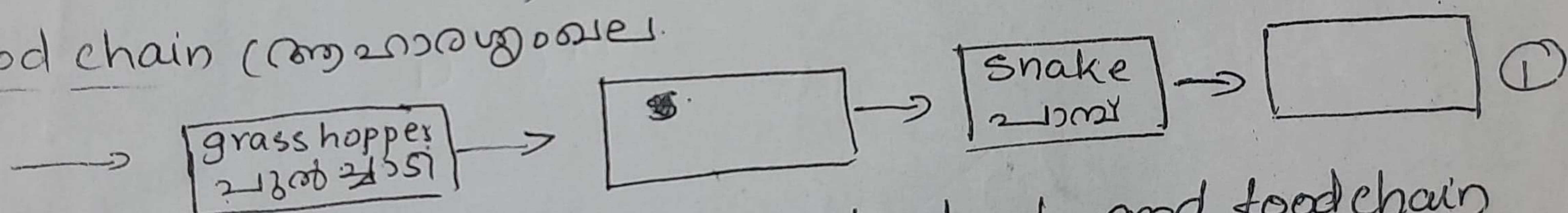
- 1) ചിത്രത്തിൽ തന്നിരിക്കുന്ന ആവാസ വ്യവസ്ഥയിൽനിന്നും ജീവികളുടെ ആഹാരശൃംഖലയും ആഹാര ശൃംഖലാജാലവും എഴുതുക.  
(Write down a food chain and food web from the picture of different animals that belong to an ecosystem)



Food web (ആഹാര ശൃംഖലാജാലം)

Grasses (പുല്ലുകൾ)

Food chain (ആഹാരശൃംഖല)



- 2) What is the difference between foodweb and foodchain  
(ആഹാരശൃംഖലയും ആഹാര ശൃംഖലാജാലവും തമ്മിലുള്ള വ്യത്യാസമെന്ത്?) ①
- 3) \_\_\_\_\_ is the first link in a food chain  
(ആഹാര ശൃംഖലയിലെ ആദ്യത്തെ കണ്ണി \_\_\_\_\_ ആണ്) ①

II


- 1) Classify the living and Non-living things in ~~an~~ a habitat of paddy field (വയൽ എന്ന ആവാസവ്യവസ്ഥയിലെ ജീവനുകളെ വലയം ജീവനിലാത്തവയെയും പട്ടികപ്പെടുത്തുക) ②

- 2) Write any four habitats? (ഏതെങ്കിലും 4 ആവാസസ്ഥലങ്ങൾ പേരെഴുതുക) ②
- 3) \_\_\_\_\_ are the producers in the habitat system of the ocean.  
(സമുദ്രം എന്ന ആവാസവ്യവസ്ഥയിലെ ഉല്പാദകരാണ് \_\_\_\_\_) ①



I

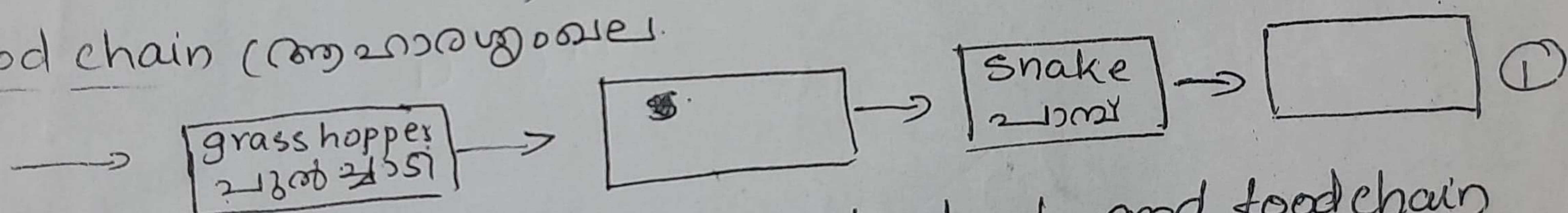
- 1) ചിത്രത്തിൽ തന്നിരിക്കുന്ന ആവാസ വ്യവസ്ഥയിൽനിന്നും ജീവികളുടെ ആഹാരശൃംഖലയും ആഹാര ശൃംഖലാജാലവും എഴുതുക.  
(Write down a food chain and food web from the picture of different animals that belong to an ecosystem)



Food web (ആഹാര ശൃംഖലാജാലം)

Grasses (പുല്ലുകൾ)

Food chain (ആഹാരശൃംഖല)



- 2) What is the difference between foodweb and foodchain  
(ആഹാരശൃംഖലയും ആഹാര ശൃംഖലാജാലവും തമ്മിലുള്ള വ്യത്യാസമെന്ത്?) ①
- 3) \_\_\_\_\_ is the first link in a food chain  
(ആഹാര ശൃംഖലയിലെ ആദ്യത്തെ കണ്ണി \_\_\_\_\_ ആണ്) ①

- II 1) Classify the living and Non-living things in ~~an~~ a habitat of paddy field (വയൽ എന്ന ആവാസവ്യവസ്ഥയിലെ ജീവനുകളെ വേലയും ജീവനിലാത്തവയെയും പട്ടികപ്പെടുത്തുക) ②

- 2) Write any four habitats? (ഏതെങ്കിലും 4 ആവാസസ്ഥലങ്ങൾ പേരെഴുതുക) ②
- 3) \_\_\_\_\_ are the producers in the habitat system of the ocean.  
(സമുദ്രം എന്ന ആവാസവ്യവസ്ഥയിലെ ഉല്പാദകരാണ് \_\_\_\_\_) ①