

2. വൈദ്യുത കാന്തിക ഫലം

ഈനൽ മേഖലകൾ

- വൈദ്യുതപ്രവാഹമുള്ള ചാലകത്തിന് ചുറ്റുമുള്ള കാന്തികമണ്ഡലം
- വലതുകൈപെരുവിരൽ നിയമം
- ഒരു സോളിനോയ്ഡിന് ചുറ്റുമുള്ള കാന്തികമണ്ഡലം - കാന്തികധ്രുവത
- കാന്തിക മണ്ഡലത്തിലെ സ്വാധീനിക്കുന്ന ഘടകങ്ങൾ
- മോട്ടോർ തത്വം
- DC മോട്ടോർ - ഘടന, പ്രവർത്തനം
- ചലിക്കും ചുരുൾ ലൗഡ്സ്പീക്കർ - ഘടന, പ്രവർത്തനം

1. വൈദ്യുതപ്രവാഹമുള്ള ചാലകത്തിന് ചുറ്റുമുള്ള കാന്തികമണ്ഡലം

a. ചാലകം കാന്ത സൂചിക്കു മുകളിൽ

No.	ചാലകം കാന്ത സൂചിക്കു മുകളിൽ	കാന്ത സൂചിയുടെ ഉത്തരധ്രുവത്തിന്റെ (N) ചലനദിശ
1	വൈദ്യുതപ്രവാഹദിശ A യിൽ നിന്ന് B യിലേക്ക്	അപ്രദക്ഷിണദിശ
2	വൈദ്യുതപ്രവാഹദിശ B യിൽ നിന്ന് A യിലേക്ക്	പ്രദക്ഷിണദിശ

b. ചാലകം കാന്ത സൂചിക്കു താഴെ

No.	ചാലകം കാന്ത സൂചിക്കു താഴെ	കാന്ത സൂചിയുടെ ഉത്തരധ്രുവത്തിന്റെ (N) ചലനദിശ
1	വൈദ്യുതപ്രവാഹദിശ A യിൽ നിന്ന് B യിലേക്ക്	പ്രദക്ഷിണദിശ
2	വൈദ്യുതപ്രവാഹദിശ B യിൽ നിന്ന് A യിലേക്ക്	അപ്രദക്ഷിണദിശ

1.കാന്തസൂചി പ്രദ്രംശിക്കാനുള്ള കാരണം എന്തായിരിക്കും?

* വൈദ്യുതി പ്രവഹിക്കുന്ന ഒരു ചാലകത്തിന് ചുറ്റും ഒരു കാന്തിക മണ്ഡലം രൂപപ്പെടുന്നു. ഈ കാന്തിക മണ്ഡലവും ചുറ്റുമുള്ള കാന്തിക മണ്ഡലവും തമ്മിലുള്ള പരസ്പര പ്രവർത്തനഫലമായാണ് കാന്തസൂചി വിദ്രംശിക്കുന്നത്.

2.കാന്ത സൂചിയുടെ വിദ്രംശത്തെ സ്വാധീനിക്കുന്ന ഘടകങ്ങൾ ഏതെല്ലാം?

* കറന്റിന്റെ ദിശ.

* ചാലകത്തിന്റെ സ്ഥാനം.

വൈദ്യുതി കടന്നുപോകുന്ന ഒരു നിവർന്ന ചാലകത്തിന് ചുറ്റും ഉണ്ടാകുന്ന കാന്തികമണ്ഡലം- പ്രത്യേകതകൾ

◆ വൈദ്യുതി കടന്നുപോകുന്ന ചാലകത്തിന് ചുറ്റും ഒരു കാന്തിക മണ്ഡലം ഉണ്ടാകുന്നു .

◆ ഈ കാന്തിക മണ്ഡലത്തിന്റെ ആകൃതി വലയ രൂപത്തിലാണ് .

◆ ഈ കാന്തിക മണ്ഡലത്തിന്റെ ദിശ കണ്ടുപിടിക്കുന്നതിന് ഉപയോഗിക്കുന്ന 2 നിയമങ്ങളാണ് .

* വലതു കൈ പെരുവിരൽ നിയമം &

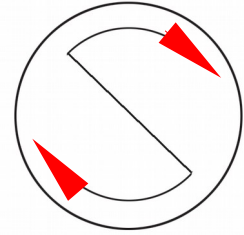
* വലംപിരി സ്ക്രൂ നിയമം

2.വലതു കൈ പെരുവിരൽ നിയമം (James Clark Maxwell.)

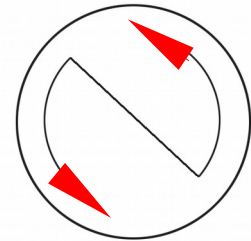
* തള്ളവിരൽ വൈദ്യുത പ്രവാഹ ദശയിൽ വരത്തക്ക രീതിയിൽ ചാലകത്തെ വലതുകൈകൊണ്ട് പിടിക്കുന്നതായി സങ്കല്പിച്ചാൽ ചാലകത്തെ ചുറ്റിപ്പിടിച്ച മറ്റു വിരലുകൾ കാന്തിക മണ്ഡലത്തിന്റെ ദിശയിലായിരിക്കും.

3. ഒരു സോളിനോയ്ഡിന് ചുറ്റുമുള്ള കാന്തികമണ്ഡലം - കാന്തികധ്രുവത - വൈദ്യുതവാഹിയായ സോളിനോയ്ഡിന്റെ കാന്തികമണ്ഡലവും ധ്രുവതയും എങ്ങനെ തിരിച്ചറിയാം ?

* വൈദ്യുതി പ്രവഹിക്കുന്ന സോളിനോയ്ഡിൽ വൈദ്യുതപ്രവാഹം പ്രദക്ഷിണദിശയിൽ പ്രവഹിക്കുന്ന അഗ്രത്ത് ദക്ഷിണധ്രുവം (south pole).



* വൈദ്യുതി പ്രവഹിക്കുന്ന സോളിനോയ്ഡിൽ വൈദ്യുതപ്രവാഹം അപ്രദക്ഷിണദിശയിൽ പ്രവഹിക്കുന്ന അഗ്രത്ത് ഉത്തരധ്രുവം (north pole).



4. വൈദ്യുതവാഹിയായ സോളിനോയ്ഡിന്റെ കാന്തശക്തിയെ സ്വാധീനിക്കുന്ന ഘടകങ്ങൾ .

- ◆ വൈദ്യുത പ്രവാഹതീവ്രത .
- ◆ സോളിനോയ്ഡിന്റെ ചുറ്റുകളുടെ എണ്ണം .
- ◆ സോളിനോയ്ഡിന്റെ ഛേദതല പരപ്പളവ് .
- ◆ പച്ചിരിമ്പ് ദണ്ഡിന്റെ ഛേദതല പരപ്പളവ് .

5. മോട്ടോർ തത്ത്വം

ഒരു കാന്തിക മണ്ഡലത്തിൽ സ്ഥിതിചെയ്യുന്ന സ്വതന്ത്രമായി ചലിക്കുന്ന ചാലകത്തിലൂടെ വൈദ്യുതി പ്രവഹിക്കുമ്പോൾ ചാലകത്തിൽ ഒരു ബലം ഉളവാക്കുകയും അത് ചലിക്കുകയും ചെയ്യുന്നു.

6. DC മോട്ടോർ - ഘടന, പ്രവർത്തനം

പ്രവർത്തന തത്ത്വം : മോട്ടോർ തത്ത്വം

വൈദ്യുത മോട്ടോറിന്റെ ഭാഗങ്ങൾ

- ◆ N,S - കാന്തിക ധ്രുവങ്ങൾ
- ◆ XY - മോട്ടോർ തിരിയുന്ന അക്ഷരം
- ◆ ABCD - ആർമെച്ചർ
- ◆ B 1 , B 2 - ഗ്രാഹൈറ്റ് ബ്രഷുകൾ
- ◆ R 1 , R 2 - സ്ക്വിറ്റ് റിങ്ങുകൾ

ആർമെച്ചർ

- ◆ ആർമെച്ചർ സ്വതന്ത്രമായി തിരിയത്തക്ക രീതിയിൽ തിരശ്ചീനമായി സ്ഥിതി ചെയ്യുന്നു. പച്ചിരുമ്പിന് മുകളിൽ ചുറ്റിയ കമ്പിച്ചുരുളാണ് ആർമെച്ചർ.
- ◆ ഇതിനെ XY അക്ഷരത്തിൽ ദൃഢമായി ബന്ധിപ്പിച്ചിരിക്കുന്നു.
- ◆ ചിത്രത്തിൽ AB വശത്തും CD വശത്തും അനുഭവപ്പെടുന്ന ബലങ്ങൾ ഒരേ ദിശയിലാണോ ?
 - * അല്ല, AB താഴേക്കും CD മുകളിലേക്കും ചലിക്കും.
- ◆ ഇപ്രകാരം ലഭിക്കുന്ന ബന്ധങ്ങൾ ആർമെച്ചറിൽ ഉളവാക്കുന്ന ഫലങ്ങൾ എന്തെല്ലാം ആയിരിക്കും?
 - *ഇവിടെ അനുഭവപ്പെടുന്ന ബലങ്ങൾ വ്യത്യസ്ത ദിശകളിലാണ്. ഈ ബലങ്ങൾ ഒരേ വസ്തുവിൽ വ്യത്യസ്ത സ്ഥാനങ്ങളിലായി അനുഭവപ്പെടുന്നു. ഇതിന്റെ ഫലമായി ആർമെച്ചർ കറങ്ങുന്നു.

സ്ക്വിറ്റ് റിങ് കമ്മ്യൂട്ടേറ്റർ

- ◆ മോട്ടോറിന്റെ ഭ്രമണം തുടർച്ചയായി നിലനിൽക്കണമെങ്കിൽ ആർമെച്ചറിലൂടെയുള്ള വൈദ്യുതപ്രവാഹദിശ തുടർച്ചയായി മാറിക്കൊണ്ടിരിക്കണം.
- ◆ ഓരോ അർധഭ്രമണത്തിനു ശേഷവും സെർക്കിട്ടിലെ വൈദ്യുത പ്രവാഹദിശ മാറ്റാൻ സഹായിക്കുന്നത് സ്പ്ലിറ്റ്‌ബ്രഷുകളാണ്.
- ◆ ഇതിനെ സ്പ്ലിറ്റ് റിങ് കമ്മ്യൂട്ടേറ്റർ എന്നും പറയാറുണ്ട്.

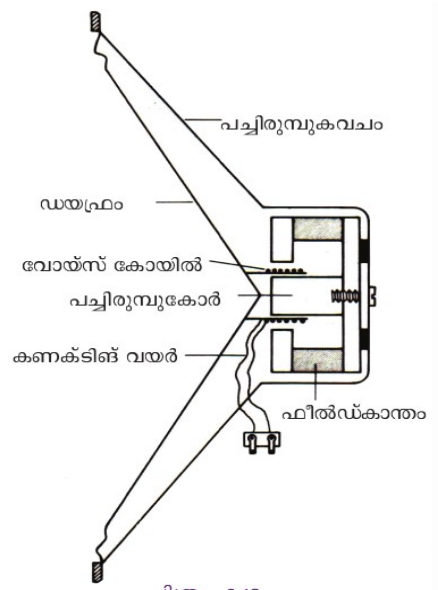
* വൈദ്യുത മോട്ടോറിൽ നടക്കുന്ന ഊർജമാറ്റമെന്ത്?
 വൈദ്യുതോർജം → യാന്ത്രികോർജം

7. ചലിക്കും ചുരുൾ ലൗഡ്സ്പീക്കർ - ഘടന, പ്രവർത്തനം

പ്രവർത്തന തത്ത്വം : മോട്ടോർ തത്ത്വം

ചലിക്കും ചുരുൾ ലൗഡ്സ്പീക്കറിന്റെ പ്രധാനഭാഗങ്ങൾ

- ◆ വോയിസ് കോയിൽ
- ◆ ഫീൽഡ് കാന്തം
- ◆ ഡയഫ്രം
- ◆ പച്ചിരുമ്പ് കോർ
- ◆ കണക്ടിങ് വയർ
- ◆ പച്ചിരുമ്പ് കവചം



* വോയിസ് കോയിൽ സ്ഥിതിചെയ്യുന്നത് എവിടെയാണ്?

- കാന്തിക മണ്ഡലത്തിൽ.

* ഡയഫ്രം ഏത് ഭാഗവുമായാണ് ബന്ധിപ്പിച്ചിരിക്കുന്നത്?

- വോയിസ് കോയിലുമായാണ് ബന്ധിപ്പിച്ചിരിക്കുന്നത്.

* വോയിസ് കോയിലേക്ക് വൈദ്യുതി എത്തുന്നത് എവിടെനിന്നാണ്?

- ആംപ്ലിഫയറിൽനിന്നാണ് വൈദ്യുതി എത്തുന്നത്.

* വോയിസ് കോളിലൂടെ വൈദ്യുതി പ്രവഹിക്കുമ്പോൾ എന്ത് സംഭവിക്കും?

- ഇത് കമ്പനം ചെയ്യുന്നു.

ചലിക്കും ചുരുൾ ലൗഡ് സ്പീക്കറിന്റെ പ്രവർത്തനം

വൈദ്യുത സ്പന്ദനങ്ങളെ ആംപ്ലിഫയർ ഉപയോഗിച്ച് ശക്തിപ്പെടുത്തി സ്പീക്കർ വോയിസ് കോയിൽ കടത്തിവിടുന്നു.



വൈദ്യുത സ്പന്ദനങ്ങൾക്കനുസൃതമായി വോയിസ് കോയിൽ മുന്നോട്ടും പിന്നോട്ടും അതിവേഗം ചലിക്കുന്നു



അതിന്റെ ഫലമായി ഡയഫ്രം കമ്പനം ചെയ്യുന്നു.



ശബ്ദം പുറം : സ്രഷ്ടിക്കുകയും ചെയ്യുന്നു

* ചലിക്കും ചുരുൾ ലൗഡ് സ്പീക്കറിൽ നടക്കുന്ന ഊർജമാറ്റമെന്ത്?

വൈദ്യുതോർജം → യാന്ത്രികോർജം

