

അർദ്ധവാർഷിക മൂല്യനിർണ്ണയം 2017-18

ക്ലാസ് : I

ഉദ്ദേശ്യം - മൂന്നാം ദിവസം

പേര്:.....സ്കൂൾ:.....

വർഷം: 10

കൺമണി കണ്ട ഉത്സവം





നിലവാരസൂചിക

ചിത്രം നോക്കി ഉത്സവത്തെക്കുറിച്ച് എഴുതൂ.





കൺമണിയും അമ്മയും വാങ്ങിയ സാധനങ്ങളിൽ പൊട്ടിയവയും പൊട്ടാത്തവയും എത്രയെന്ന് കണ്ടെത്തൂ.

സാധനങ്ങൾ	ആകെ എണ്ണം	പൊട്ടിയത്	പൊട്ടാത്തത്
 ഗ്ലാസ്	10	3	
 പ്ലേറ്റ്	8		5
 പച്ചടി	9	4	
 ബലൂൺ	7	5	


താഴെ കൊടുത്തവയെ ശരിയായി തരം തിരിക്കൂ.



പാവയ്ക്ക




മുന്തിരി



മത്തൻ




വെണ്ട



കാരറ്റ്



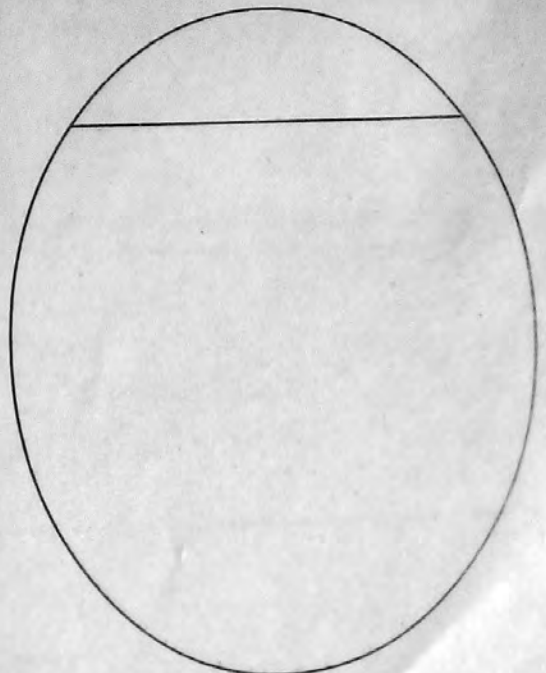
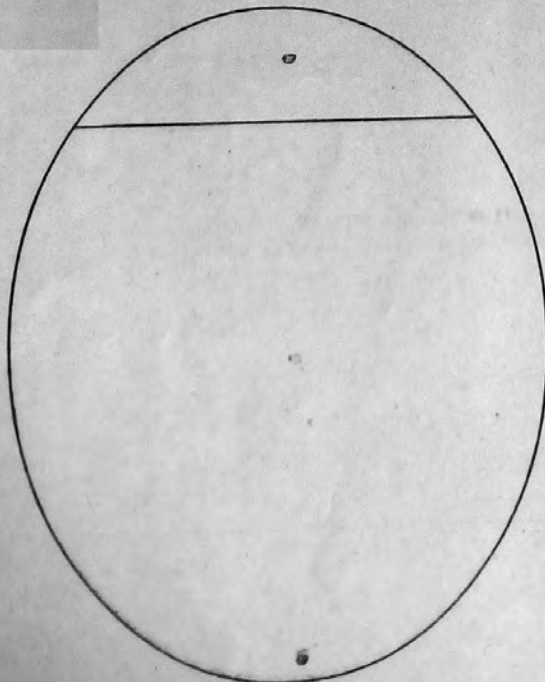
പൈനാപ്പിൾ



ഓറഞ്ച്



ആപ്പിൾ



വർക്ക്ഷീറ്റ്. 13

ഡയറസുകളി

നിലവാരസൂചിക

ഓരോ ഗ്രൂപ്പിനും കിട്ടിയ പോയിന്റുകളെ ചെറുതിൽ നിന്നും വലുതിലേക്ക് ക്രമീകരിക്കൂ.

ഒന്നാംഗ്രൂപ്പ്	10	8	14
----------------	----	---	----

--	--	--

രണ്ടാംഗ്രൂപ്പ്	40	39	46
----------------	----	----	----

--	--	--

മൂന്നാംഗ്രൂപ്പ്	61	29 /	18
-----------------	----	------	----

--	--	--

• മൂന്ന് ഗ്രൂപ്പുകളിലും ലഭിച്ച പോയിന്റുകളിൽ ഏറ്റവും വലിയ സംഖ്യ ഏതാണ്?

--

• പോയിന്റുകളിൽ 30 ൽ താഴെയുള്ള സംഖ്യകൾ കണ്ടെത്തിയെഴുതൂ.

--