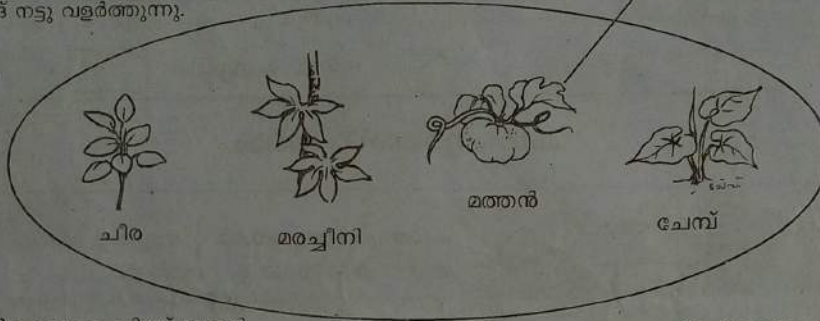


വരച്ചു ചേർക്കാം

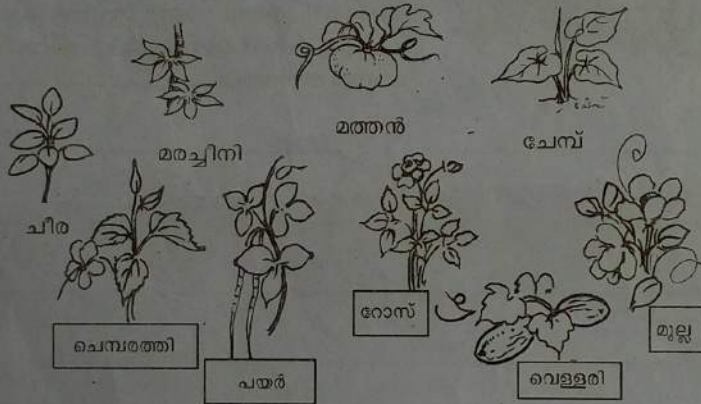
ആനച്ചെവിപോലിയുണ്ട് കിഴങ്ങ് നട്ടു വളർത്തുന്നു.

പടർന്ന് പടർന്ന് കയറുന്നു ഇലയുണ്ടല്ലോ വലിയ ഇല



കരിമണിപോലുള്ള വിത്ത് നട്ടാൽ ചുവന്ന ചെടിയായ് വളർന്നുവരും

തണ്ട് നട്ട് വളർത്തീടാം കിഴങ്ങ് നന്നായ്കിട്ടീടും



തണ്ട്, വിത്ത്, കിഴങ്ങ് എന്നിവ നട്ട് പുതിയ ചെടികൾ ഉണ്ടാക്കാമെന്ന് മനസ്സിലായില്ലേ? ഇനി ചിത്രത്തിൽ കാണുന്ന ചെടികളെ പട്ടികപ്പെടുത്തൂ.

തണ്ട്	വിത്ത്	കിഴങ്ങ്

മൂന്നാം ദിവസം

ആകെ എത്ര ?

കുഞ്ഞവറാൻ
പെറുക്കി വെച്ചത്

മത്തൻ 45 എണ്ണം
പാവയ്ക്കാ 50 എണ്ണം
വെള്ളരി 68 എണ്ണം



ഔസേപ്പ്കുഞ്ഞ്
പെറുക്കി വെച്ചത്

മത്തൻ 12 എണ്ണം
പാവയ്ക്കാ 17 എണ്ണം
വെള്ളരി 41 എണ്ണം

1. കുടുതൽ മത്തൻ പെറുക്കി വെച്ചത് ആര് ?

അത് എത്ര ?

2. രണ്ടുപേരും കൂടി എത്ര മത്തൻ പെറുക്കി വെച്ചു ?

3. ചന്തയിൽ കൊണ്ടു പോകാൻ 100 വെള്ളരികൾ മാറ്റി വെച്ചു. ഇനി എത്ര വെള്ളരി ഉണ്ട് ?

4. ഏതു പച്ചക്കറിയാണ് ഏറ്റവും കുടുതൽ ഉണ്ടായത് ?




പറയുന്നതാർ - വരച്ചു ചേർക്കാം

൧൦-10



മരത്തിൽ കൊത്താൻ ഉറപ്പുള്ള കൊക്ക് ഉണ്ട്

വാൽമുറിച്ചിട്ട് ശത്രുക്കളിൽ നിന്ന് രക്ഷ നേടും.



കരയിലും വെള്ളത്തിലും സഞ്ചരിക്കും



തോടിനുള്ളിലേക്കു വലിക്കാനാവുന്ന തലയും കാലുകളും ഉണ്ട്



പൂച്ച എന്തായിരിക്കും പറയുക?

