

അർദ്ധവാർഷിക മൂല്യനിർണ്ണയം 2017-18

ഉദ്ഗ്രഥനം- മൂന്നാം ദിവസം

ക്ലാസ് : II

പേര്: സ്കൂൾ:

പ്രവർത്തനം. 10

കാട്ടിലെ പിറന്നാൾ






നിലവാരസൂചിക

കുഞ്ഞനണ്ണാന്റെ പിറന്നാളാഘോഷത്തിന് കാട്ടിലെ മൃഗങ്ങളെല്ലാം എത്തി. അതിമികളെ സ്വീകരിക്കാനുള്ള ചുമതല കരടിച്ചേട്ടനാണ്. വന്നവരെ കരടിച്ചേട്ടൻ പ്രത്യേകം പ്രത്യേകം കുട്ടങ്ങളാക്കിയാണ് ഇരുത്തിയത്. ആരെയെല്ലാമായിരിക്കും ഒന്നിച്ചിരുത്തിയത്? ഒന്നിച്ചിരുത്താനുള്ള കാരണവും എഴുതണം.

തേനീച്ച പാമ്പ്
മുതല പുച്ച കുരുവി കാക്ക ആമ കുറുക്കൻ
പശു കടന്നൽ പുലി മയിൽ തത്ത
ഒച്ച് കരടി ആന

- ജീവികളെ മറ്റേതൊക്കെ രീതിയിൽ തരംതിരിക്കാം
-
-
-

ശേഖരണപുസ്തകത്തിൽ ജീവികളുടെ ചിത്രങ്ങൾ മുറിച്ചെടുത്ത് ശേഷം ആതിര അവയുടെ ആഹാരത്തെക്കുറിച്ച് എഴുതാൻ തുടങ്ങി. നിങ്ങളും എഴുതൂ.

	<p>ഞാൻ പശു പുല്ലും ഇലകളുമാണ് എന്റെ ആഹാരം</p>
	
	
	
	

• മുകളിൽ കൊടുത്തവയിൽ കുഞ്ഞുങ്ങളെ പ്രസവിച്ച് വളർത്തുന്ന ജീവികൾ ഏതെല്ലാം?

Blank box for writing answers to the question above.

പഴങ്ങൾ വാങ്ങണം.

ഉമ്മറിന്റെ കൈയിൽ 80 രൂപയുണ്ട്. അവൻ പഴക്കടയിലെത്തി. മുഴുവൻ തുകയ്ക്കും പഴങ്ങൾ വാങ്ങി. അവൻ ഇതിൽ എങ്ങനെ ഇനങ്ങൾ വാങ്ങാനാകും?

വിലവിവരപ്പട്ടിക	
തണ്ണിമത്തൻ	- 10 രൂപ
ഓറഞ്ച്	- 70 രൂപ
മാമ്പഴം	- 60 രൂപ
പപ്പായ	- 45 രൂപ
കൈതച്ചക്ക	- 35 രൂപ
ആപ്പിൾ	- 55 രൂപ
മുന്തിരി	- 20 രൂപ
വാഴപ്പഴം	- 25 രൂപ

വാങ്ങിയ ഇനങ്ങൾ	
സെറ്റ്.1	സെറ്റ്.2
<div style="border: 1px solid black; padding: 5px;"> തണ്ണിമത്തൻ </div>	<div style="border: 1px solid black; height: 40px;"></div>
<div style="border: 1px solid black; height: 40px;"></div>	<div style="border: 1px solid black; height: 40px;"></div>

ക്രിയാ രൂപത്തിൽ എഴുതൂ.

$70 + 10 = 80$ സെറ്റ്.1	<div style="border: 1px solid black; height: 30px;"></div> സെറ്റ്.2	<div style="border: 1px solid black; height: 30px;"></div> സെറ്റ്.3	<div style="border: 1px solid black; height: 30px;"></div> സെറ്റ്.4
----------------------------	--	--	--

കാട്ടിലെത്തിയ മരംവെട്ടുകാരെ മുഗ്ഗങ്ങളെല്ലാം കൂടി ഓടിച്ചു കാടിനു പുറത്താക്കി. അരയാൽ കൊമ്പിൽ ഉറങ്ങുകയായിരുന്ന മുങ്ങ ഇതൊന്നും അറിഞ്ഞില്ല. കുരങ്ങച്ചൻ അരയാൽ കൊമ്പിൽ ചാടിയതും മുങ്ങ തെട്ടിയുണർന്നു.

മുങ്ങയും കുരങ്ങച്ചനും തമ്മിലുള്ള സംഭാഷണം പൂർത്തിയാക്കൂ

- മുങ്ങ : ഓഹാ! നീ ആയിരുന്നോ?
- കുരങ്ങച്ചൻ : നീ ഇങ്ങനെ ഉറക്കം തുങ്ങിയിരുന്നോ?
- മുങ്ങ : പിന്നെ ഞാനെന്തു ചെയ്യാനാ?
- കുരങ്ങച്ചൻ : നീ ഒന്നും അറിഞ്ഞില്ലേ?



- മുങ്ങ :
- കുരങ്ങച്ചൻ :
- മുങ്ങ :
- കുരങ്ങച്ചൻ :
- മുങ്ങ :
- കുരങ്ങച്ചൻ :

പുതുവർഷം വരവായി. കൂട്ടുകാരെല്ലാം ജനുവരി മാസത്തിലെ കലണ്ടർ പരിശോധിച്ചു.

2018 ജനുവരി						
ഞായർ	തിങ്കൾ	ചൊവ്വ	ബുധൻ	വ്യാഴം	വെള്ളി	രവി
●	1 <small>പുതുവർഷം</small>	2 <small>മുഹൂർത്തം</small>	3	4	5	6
7	8	9	10	11	12 <small>മുഹൂർത്തം</small>	13
14	15	16	17	18	19	20
21	22	23	24	25	26 <small>മുഹൂർത്തം</small>	27
28	29	30	31	●	●	●

- സ്കൂളിൽ എല്ലാ തിങ്കളാഴ്ചയും വ്യാഴാഴ്ചയുമാണ് അസംബ്ലി നടക്കാനുള്ളത്. ജനുവരി മാസത്തിൽ അസംബ്ലി നടക്കുന്ന തീയതികൾ കണ്ടെത്തി എഴുതൂ.

തിങ്കളാഴ്ചകൾ

വ്യാഴാഴ്ചകൾ

- ജനുവരി മാസത്തിൽ എത്ര ഞായറാഴ്ചകളുണ്ട്?

തീയതികൾ ഏതൊക്കെ?

- പുതുവർഷദിനം (2018 ജനുവരി.1) തിങ്കളാഴ്ചയാണ്. എങ്കിൽ 2017 ഡിസംബർ 30 ഏത് ദിവസമായിരിക്കും?

- 2018 ജനുവരി 31 ബുധനാഴ്ചയാണ്. അടുത്ത ബുധനാഴ്ച ഏതു തീയതിയായിരിക്കും?