

A**CCE RR
REVISED**

ಕರ್ನಾಟಕ ಪ್ರೌಢ ಶಿಕ್ಷಣ ಪರಿಷತ್, ಮಲ್ಲೇಶ್ವರಂ, ಬೆಂಗಳೂರು – 560 003
KARNATAKA SECONDARY EDUCATION EXAMINATION BOARD, MALLESWARAM,
BANGALORE – 560 003

ಎಸ್.ಎಸ್.ಎಲ್.ಸಿ. ಪರೀಕ್ಷೆ, ಜೂನ್, 2019

S.S.L.C. EXAMINATION, JUNE, 2019

ಮಾದರಿ ಉತ್ತರಗಳು
MODEL ANSWERS

ದಿನಾಂಕ : 24. 06. 2019]

ಸಂಕೇತ ಸಂಖ್ಯೆ : 83-K (Chem.)

Date : 24. 06. 2019]

CODE NO. : 83-K (Chem.)

ವಿಷಯ : ವಿಜ್ಞಾನ

Subject : SCIENCE

(ರಸಾಯನಶಾಸ್ತ್ರ / Chemistry)

(ಕನ್ನಡ ಭಾಷಾಂತರ / Kannada Version)

(ಹೊಸ ಪಠ್ಯಕ್ರಮ / New Syllabus)

(ಪುನರಾವರ್ತಿತ ಶಾಲಾ ಅಭ್ಯರ್ಥಿ / Regular Repeater)

[ಗರಿಷ್ಠ ಅಂಕಗಳು : 80

[Max. Marks : 80

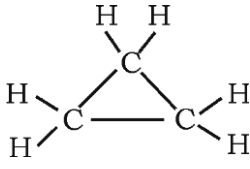
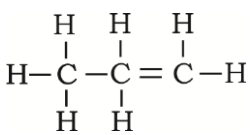
ಪ್ರಶ್ನೆ ಸಂಖ್ಯೆ	ಪ್ರಶ್ನಾನುಸಾರ ಮೌಲ್ಯಮಾಪನ	ಅಂಕಗಳು
1.	ಆಧುನಿಕ ಆವರ್ತಕ ಕೋಷ್ಟಕದಲ್ಲಿರುವ ಗುಂಪುಗಳ (ಅಥವಾ ವರ್ಗಗಳ) ಮತ್ತು ಅವರ್ತಗಳ ಸಂಖ್ಯೆಯು ಕ್ರಮವಾಗಿ (A) 7 ಮತ್ತು 9 (B) 18 ಮತ್ತು 7 (C) 7 ಮತ್ತು 18 (D) 9 ಮತ್ತು 7 ಉತ್ತರ : (B) 18 ಮತ್ತು 7	1
6.	ಕೆಳಗಿನವುಗಳಲ್ಲಿ ಸಾಧ್ಯವಾಗುವ ರಾಸಾಯನಿಕ ಕ್ರಿಯೆ (A) $\text{FeSO}_4 + \text{Pb} \rightarrow \text{PbSO}_4 + \text{Fe}$ (B) $\text{ZnSO}_4 + \text{Fe} \rightarrow \text{FeSO}_4 + \text{Zn}$ (C) $2 \text{AgNO}_3 + \text{Cu} \rightarrow \text{Cu}(\text{NO}_3)_2 + 2 \text{Ag}$ (D) $\text{PbCl}_2 + \text{Cu} \rightarrow \text{CuCl}_2 + \text{Pb}$ ಉತ್ತರ : (C) $2 \text{AgNO}_3 + \text{Cu} \rightarrow \text{Cu}(\text{NO}_3)_2 + 2 \text{Ag}$	1

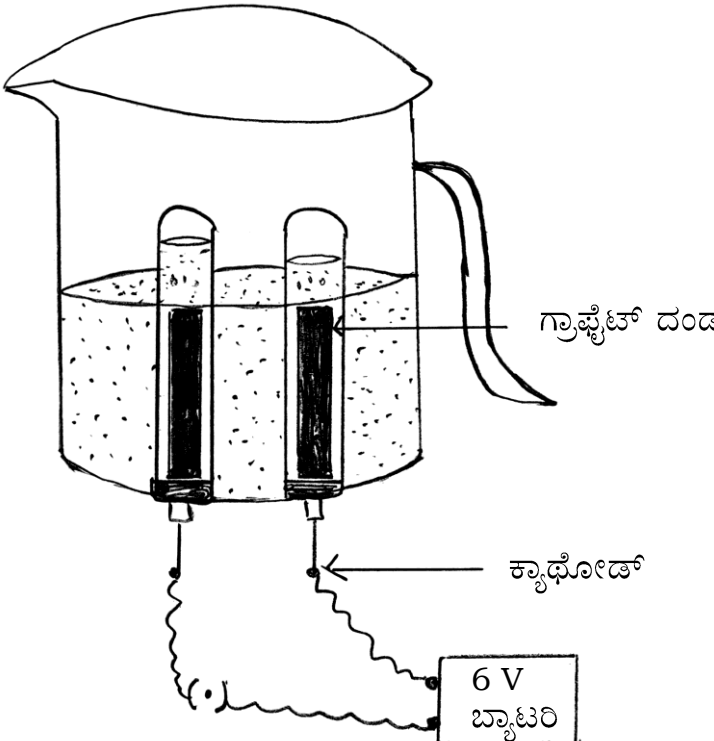
 (24)510-RR(A) (CHE)

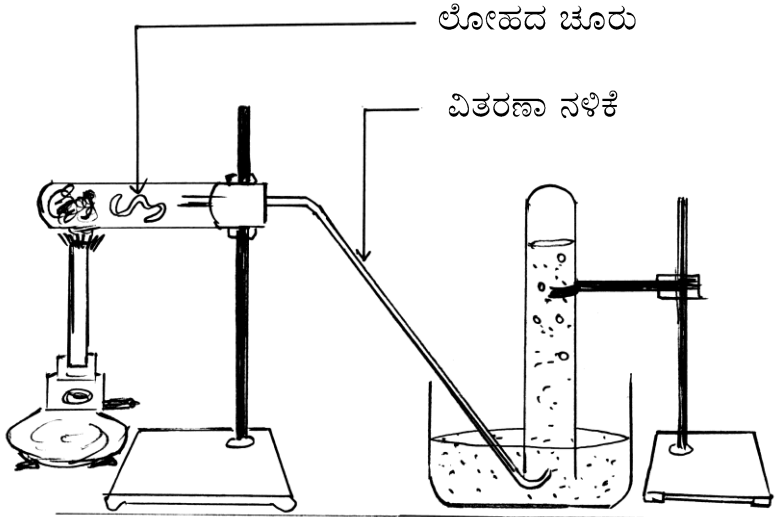
[Turn over

ಪ್ರಶ್ನೆ ಸಂಖ್ಯೆ	ಪ್ರಶ್ನಾನುಸಾರ ಮೌಲ್ಯಮಾಪನ	ಅಂಕಗಳು
8.	$\text{Fe}_2\text{O}_3 + 2\text{Al} \rightarrow \text{Al}_2\text{O}_3 + 2\text{Fe}$ <p>ಮೇಲಿನ ರಾಸಾಯನಿಕ ಕ್ರಿಯೆಯ ವಿಧ</p> <p>(A) ಸಂಯೋಗ ಕ್ರಿಯೆ (B) ದ್ವಿಸ್ಥಾನ ಪಲ್ಲಟ ಕ್ರಿಯೆ</p> <p>(C) ವಿಭಜನ ಕ್ರಿಯೆ (D) ಸ್ಥಾನಪಲ್ಲಟ ಕ್ರಿಯೆ</p> <p>ಉತ್ತರ : (D) ಸ್ಥಾನಪಲ್ಲಟ ಕ್ರಿಯೆ</p>	1
14.	<p>ಕೋವೇಲೆಂಟ್ ಬಂಧ (ಸಹವೇಲೆನ್ಸಿಯ ಬಂಧ) ಎಂದರೇನು ?</p> <p>ಉತ್ತರ :</p> <p>ಎರಡು ಪರಮಾಣುಗಳ ನಡುವೆ ಇಲೆಕ್ಟ್ರಾನ್‌ಗಳ ಹಂಚಿಕೆಯಿಂದ ಉಂಟಾಗುವ ಬಂಧ.</p>	1
17.	<p>ಆಲ್ಕೈನ್‌ಗಳ ಮೊದಲ ಸದಸ್ಯವನ್ನು ಹೆಸರಿಸಿ ಮತ್ತು ಅದರ ಅಣುಸೂತ್ರವನ್ನು ಬರೆಯಿರಿ.</p> <p>ಉತ್ತರ :</p> <p>ಈಥೈನ್ (ಅಸಿಟಲೀನ್) $\frac{1}{2}$</p> <p>C_2H_2 $\frac{1}{2}$</p>	1
20.	<p>ಒಂದು ಆಮ್ಲವು ಲೋಹದ ಕಾರ್ಬೋನೇಟ್‌ನೊಂದಿಗೆ ವರ್ತಿಸಿದಾಗ ಬಿಡುಗಡೆಯಾಗುವ ಅನಿಲವನ್ನು ಹೆಸರಿಸಿ. ಈ ಅನಿಲವನ್ನು ಸುಣ್ಣದ ತಿಳಿನೀರಿನ ಮೂಲಕ ಹಾಯಿಸಿದಾಗ ಉಂಟಾಗುವ ರಾಸಾಯನಿಕ ಕ್ರಿಯೆಯ ಸಮೀಕರಣವನ್ನು ಬರೆಯಿರಿ. ಈ ಕ್ರಿಯೆಯಲ್ಲಿ ದೊರೆಯುವ ಪ್ರಕ್ಷೇಪದ ಬಣ್ಣ ಯಾವುದು ?</p> <p>ಅಥವಾ</p> <p>ವೈಜ್ಞಾನಿಕ ಕಾರಣ ಕೊಡಿ :</p> <p>(i) ಆಮ್ಲವನ್ನು ಸಾರರಿಕ್ತಗೊಳಿಸುವಾಗ ಆಮ್ಲವನ್ನು ನೀರಿಗೆ ಸೇರಿಸಬೇಕು.</p> <p>(ii) ಪ್ಲಾಸ್ಟರ್ ಆಫ್ ಪ್ಯಾರಿಸ್ ಅನ್ನು ತೇವಾಂಶ ನಿರೋಧಕ ಸಂಗ್ರಾಹಕದಲ್ಲಿ ಸಂಗ್ರಹಿಸಿ ಇಡಬೇಕು.</p> <p>ಉತ್ತರ :</p> <p>ಕಾರ್ಬನ್ ಡೈ ಆಕ್ಸೈಡ್ (CO_2) $\frac{1}{2}$</p> <p>$\text{Ca}(\text{OH})_2(aq) + \text{CO}_2(g) \rightarrow \text{CaCO}_3(s) + \text{H}_2\text{O}(l)$ 1</p> <p>ಬಿಳಿಯ ಪ್ರಕ್ಷೇಪ $\frac{1}{2}$</p> <p>ಅಥವಾ</p> <p>(i) * ನೀರನ್ನು ಸಾರೀಕೃತ ಆಮ್ಲಕ್ಕೆ ಸೇರಿಸಿದರೆ ಉತ್ಪತ್ತಿಯಾಗುವ ಉಷ್ಣವು ಮಿಶ್ರಣ ಹೊರಸಿಡಿಯುವಂತೆ ಮಾಡಬಹುದು ಮತ್ತು ಸುಟ್ಟಗಾಯಗಳು ಉಂಟಾಗಬಹುದು.</p>	2

ಪ್ರಶ್ನೆ ಸಂಖ್ಯೆ	ಪ್ರಶ್ನಾನುಸಾರ ಮೌಲ್ಯಮಾಪನ	ಅಂಕಗಳು
	<p>★ ಅತಿಯಾದ ಬಿಸಿಯಾಗುವಿಕೆಯಿಂದ ಗಾಜಿನ ಸಂಗ್ರಾಹಕವೂ ಒಡೆಯಬಹುದು. (ಯಾವುದಾದರೂ ಒಂದು)</p>	1
24.	<p>(ii) ಇಲ್ಲವಾದರೆ ಅದು ತೇವಾಂಶದೊಂದಿಗೆ ವರ್ತಿಸುತ್ತದೆ ಮತ್ತು ಗಟ್ಟಿಯಾದ ಘನರೂಪದ ಜಿಪ್ಸಂ ಆಗಿ ಬದಲಾಗುತ್ತದೆ.</p> <p>(i) ಅಲ್ಯುಮಿನಿಯಂ, ಸಾರರಿಕ್ತ ಹೈಡ್ರೋಕ್ಲೋರಿಕ್ ಆಮ್ಲದ ಜೊತೆ ಪ್ರತಿವರ್ತಿಸುವ ಕ್ರಿಯೆಯ ಸರಿದೂಗಿಸಿದ ರಾಸಾಯನಿಕ ಸಮೀಕರಣ ಬರೆಯಿರಿ.</p> <p>(ii) ಒಂದು ಲೋಹವು ಸಾರಯುಕ್ತ ನೈಟ್ರಿಕ್ ಆಮ್ಲದೊಂದಿಗೆ ವರ್ತಿಸಿದಾಗ ಹೈಡ್ರೋಜನ್ ಅನಿಲ ಬಿಡುಗಡೆಯಾಗುವುದಿಲ್ಲ. ಕಾರಣ ಕೊಡಿ.</p> <p style="text-align: center;">ಅಥವಾ</p> <p>NaCl ಮತ್ತು MgCl₂ ಗಳ ಉಂಟಾಗುವಿಕೆಯನ್ನು ಇಲೆಕ್ಟ್ರಾನ್ ಚುಕ್ಕೆ ವಿನ್ಯಾಸದ ಸಹಾಯದಿಂದ ತೋರಿಸಿ.</p> <p>ಉತ್ತರ :</p> <p>(i) $2 Al + 6 HCl \rightarrow 2 AlCl_3 + 3H_2$</p> <p>(ii) ನೈಟ್ರಿಕ್ ಆಮ್ಲವು ಪ್ರಬಲ ಉತ್ಕರ್ಷಕ. ಇದು ಉತ್ಪತ್ತಿಯಾದ ಹೈಡ್ರೋಜನ್ ಅನ್ನು ಉತ್ಕರ್ಷಿಸಿ ನೀರನ್ನು ಉತ್ಪತ್ತಿ ಮಾಡುತ್ತದೆ ಮತ್ತು ಸ್ವತಃ ಯಾವುದಾದರೊಂದು ನೈಟ್ರೋಜನ್ ಆಕ್ಸೈಡ್ ಆಗಿ ಅಪಕರ್ಷಣೆ ಹೊಂದುತ್ತದೆ.</p> <p style="text-align: center;">ಅಥವಾ</p> <p> $Na + \cdot \overset{\cdot}{\underset{\cdot}{\text{Cl}}} \cdot \rightarrow (Na^+) \left[\overset{\cdot}{\underset{\cdot}{\text{Cl}}} \cdot \right]$ $Mg : + \begin{array}{c} \cdot \overset{\cdot}{\underset{\cdot}{\text{Cl}}} \cdot \\ \cdot \overset{\cdot}{\underset{\cdot}{\text{Cl}}} \cdot \end{array} \rightarrow (Mg^{2+}) \left[\overset{\cdot}{\underset{\cdot}{\text{Cl}}} \cdot \right]_2$ </p>	2
26.	<p>ಹೈಡ್ರೋಕಾರ್ಬನ್‌ಗಳಲ್ಲಿ ಆದೇಶನ ಕ್ರಿಯೆಯನ್ನು ಒಂದು ಉದಾಹರಣೆಯೊಂದಿಗೆ ವಿವರಿಸಿ.</p> <p style="text-align: center;">ಅಥವಾ</p> <p>ಸಾಬೂನುಗಳು ಸ್ವಚ್ಛಗೊಳಿಸುವ ಕ್ರಿಯೆಯನ್ನು ವಿವರಿಸಿ.</p> <p>ಉತ್ತರ :</p> <p>ಪರ್ಯಾಪ್ತ ಹೈಡ್ರೋಕಾರ್ಬನ್‌ಗಳು ಅಷ್ಟೇನೂ ಕ್ರಿಯಾಪಟುಗಳಲ್ಲ. ಆದಾಗ್ಯೂ ಸೂರ್ಯನ ಬೆಳಕಿನ ಸಮ್ಮುಖದಲ್ಲಿ ಆದೇಶನ ಕ್ರಿಯೆಗಳಿಗೆ ಒಳಪಡುತ್ತವೆ. ಕ್ಲೋರಿನ್, ಹೈಡ್ರೋಜನ್ ಪರಮಾಣುಗಳನ್ನು ಒಂದೊಂದಾಗಿ ಸ್ಥಾನಪಲ್ಲಟಗೊಳಿಸಬಲ್ಲದು.</p> <p style="text-align: center;">$CH_4 + Cl_2 \rightarrow CH_3 Cl + HCl$</p> <p style="text-align: center;">ಅಥವಾ</p>	2

ಪ್ರಶ್ನೆ ಸಂಖ್ಯೆ	ಪ್ರಶ್ನಾನುಸಾರ ಮೌಲ್ಯಮಾಪನ	ಅಂಕಗಳು									
	<p>(i) ಸಾಬೂನಿನ ಅಯಾನಿಕ ತುದಿ ನೀರಿನೊಂದಿಗೆ ವರ್ತಿಸಿದರೆ ಕಾರ್ಬನ್ ಸರಪಳಿಯು ಎಣ್ಣೆ (ಜಿಡ್ಡು) ಯೊಂದಿಗೆ ವರ್ತಿಸುತ್ತದೆ. 1/2</p> <p>(ii) ಹೀಗೆ ಸಾಬೂನಿನ ಅಣುಗಳು ಮಿಸೆಲ್‌ಗಳೆಂಬ ರಚನೆಗಳನ್ನುಂಟು ಮಾಡುತ್ತವೆ. ಸಾಬೂನಿನ ಅಣುಗಳ ಹೈಡ್ರೋಕಾರ್ಬನ್ ತುದಿಯು ಎಣ್ಣೆಯ ಹನಿಯ ಕಡೆಗೆ ಇರುತ್ತದೆ ಹಾಗೂ ಅಯಾನಿಕ ತುದಿಯು ಹೊರಮುಖವಾಗಿರುತ್ತದೆ. 1/2</p> <p>(iii) ಇದು ನೀರಿನಲ್ಲಿ ಎಮಲ್ಷನ್ ಅನ್ನು ಉಂಟುಮಾಡುತ್ತದೆ. 1/2</p> <p>(iv) ಹೀಗೆ ಸಾಬೂನಿನ ಮಿಸೆಲ್ ನೀರಿನಲ್ಲಿ ಕೊಳೆಯನ್ನು ಕಿತ್ತು ಹೊರತೆಗೆಯಲು ಸಹಾಯಮಾಡುತ್ತದೆ ಮತ್ತು ಬಟ್ಟೆಯನ್ನು ಸ್ವಚ್ಛಗೊಳಿಸುತ್ತದೆ. 1/2</p>	2									
30.	<p>ಪರ್ಯಾಪ್ತ ಮತ್ತು ಅಪರ್ಯಾಪ್ತ ಹೈಡ್ರೋಕಾರ್ಬನ್‌ಗಳ ಎರಡು ನಿರ್ದಿಷ್ಟ ಗುಂಪುಗಳ ಸಾಮಾನ್ಯ ಸೂತ್ರವು $C_n H_{2n}$ ಆಗಿದೆ. $n = 3$ ಆದಾಗ ಪ್ರತಿಯೊಂದು ಗುಂಪಿನ ಸದಸ್ಯರ ರಚನಾಸೂತ್ರ ಬರೆಯಿರಿ.</p> <p>ಉತ್ತರ :</p> <div style="text-align: center;">  <p>ಸೈಕ್ಲೋ ಪ್ರೋಪೇನ್</p> </div> <div style="text-align: center;">  <p>ಪ್ರೋಪೀನ್</p> </div>	2									
32.	<p>ಆಧುನಿಕ ಆವರ್ತಕ ಕೋಷ್ಟಕದಲ್ಲಿನ A, B, C, D ಧಾತುಗಳ ಸ್ಥಾನಗಳನ್ನು ಕೆಳಗಿನ ಕೋಷ್ಟಕದಲ್ಲಿ ನೀಡಲಾಗಿದೆ. ಕೋಷ್ಟಕವನ್ನು ಗಮನಿಸಿ. ಕೆಳಗಿನ ಪ್ರಶ್ನೆಗಳಿಗೆ ಉತ್ತರಿಸಿ :</p> <table border="1" style="margin-left: auto; margin-right: auto;"> <thead> <tr> <th></th> <th>ವರ್ಗ 1</th> <th>ವರ್ಗ 2</th> </tr> </thead> <tbody> <tr> <td>ಆವರ್ತ 3</td> <td style="text-align: center;">A</td> <td style="text-align: center;">B</td> </tr> <tr> <td>ಆವರ್ತ 4</td> <td style="text-align: center;">C</td> <td style="text-align: center;">D</td> </tr> </tbody> </table> <p>(i) ಅತೀ ಹೆಚ್ಚು ಪರಮಾಣು ಗಾತ್ರವನ್ನು ಹೊಂದಿರುವ ಧಾತು ಯಾವುದು ? ಏಕೆ ?</p> <p>(ii) ಅತೀ ಕಡಿಮೆ ಲೋಹೀಯ ಗುಣವನ್ನು ಹೊಂದಿರುವ ಧಾತು ಯಾವುದು ? ಏಕೆ ?</p>		ವರ್ಗ 1	ವರ್ಗ 2	ಆವರ್ತ 3	A	B	ಆವರ್ತ 4	C	D	
	ವರ್ಗ 1	ವರ್ಗ 2									
ಆವರ್ತ 3	A	B									
ಆವರ್ತ 4	C	D									

ಪ್ರಶ್ನೆ ಸಂಖ್ಯೆ	ಪ್ರಶ್ನಾನುಸಾರ ಮೌಲ್ಯಮಾಪನ	ಅಂಕಗಳು
	<p>ಉತ್ತರ :</p> <p>(i) C : ವರ್ಗದಲ್ಲಿ ಕೆಳಕ್ಕೆ ಹೋದಂತೆ ಹೊಸ ಕವಚಗಳು ಸೇರ್ಪಡೆಯಾಗುವುದು. (ಅಥವಾ ವರ್ಗದ ಕೆಳಗೆ ಹೋದಂತೆ ಇಲೆಕ್ಟ್ರಾನ್‌ಗಳು ಹೊಸ ಕವಚಗಳಿಗೆ ಪ್ರವೇಶಿಸುತ್ತವೆ) 1</p> <p>(ii) B : ಆವರ್ತದಲ್ಲಿ ಎಡದಿಂದ ಬಲಕ್ಕೆ ಸಾಗಿದಂತೆ ಇಲೆಕ್ಟ್ರಾನ್‌ಗಳನ್ನು ಕಳೆದುಕೊಳ್ಳುವ ಪ್ರವೃತ್ತಿ ಕಡಿಮೆಯಾಗುತ್ತದೆ. (ಅಥವಾ ಇಲೆಕ್ಟ್ರಾನ್‌ಗಳು ಅದೇ ಕವಚದಲ್ಲಿ ಉಳಿಯುತ್ತವೆ) 1</p> <p>35. ನೀರಿನ ವಿದ್ಯುದ್ವಿಭಜನೆಯಲ್ಲಿ ಉಪಯೋಗಿಸುವ ಉಪಕರಣದ ಚಿತ್ರವನ್ನು ಬರೆಯಿರಿ. ಕೆಳಗಿನ ಭಾಗಗಳನ್ನು ಗುರುತಿಸಿ :</p> <p>(i) ಕ್ಯಾಥೋಡ್ (ii) ಗ್ರಾಫೈಟ್ ದಂಡ</p> <p>ಉತ್ತರ :</p> <p>ನೀರಿನ ವಿದ್ಯುದ್ವಿಭಜನೆಯಲ್ಲಿ ಉಪಯೋಗಿಸುವ ಉಪಕರಣದ ಚಿತ್ರ :</p>  <p style="text-align: right;">2 + 1/2 + 1/2</p>	2
		3

ಪ್ರಶ್ನೆ ಸಂಖ್ಯೆ	ಪ್ರಶ್ನಾನುಸಾರ ಮೌಲ್ಯಮಾಪನ	ಅಂಕಗಳು
38.	<p>ಲೋಹದ ಮೇಲೆ ಹಬೆಯ ವರ್ತನೆಯನ್ನು ತೋರಿಸುವ ಪ್ರಯೋಗದ ಉಪಕರಣಗಳ ಜೋಡಣೆಯ ಚಿತ್ರವನ್ನು ಬರೆಯಿರಿ. ಈ ಕೆಳಗಿನ ಭಾಗಗಳನ್ನು ಗುರುತಿಸಿ :</p> <p>(i) ಲೋಹದ ಚೂರು</p> <p>(ii) ವಿತರಣಾ ನಳಿಕೆ</p> <p>ಉತ್ತರ :</p> <p>ಲೋಹದ ಮೇಲೆ ಹಬೆಯ ವರ್ತನೆಯನ್ನು ತೋರಿಸುವ ಚಿತ್ರ</p>  <p style="text-align: right;">2 + 1/2 + 1/2</p>	3
41.	<p>(i) ತಟಸ್ಥೀಕರಣ ಕ್ರಿಯೆ ಎಂದರೇನು ?</p> <p>(ii) ಕ್ಲೋರ್ - ಆಲ್ಕಲಿ ಪ್ರಕ್ರಿಯೆಯ ಉತ್ಪನ್ನಗಳನ್ನು ಹೆಸರಿಸಿ. ಪ್ರತಿಯೊಂದರ ಒಂದೊಂದು ಉಪಯೋಗವನ್ನು ಬರೆಯಿರಿ.</p> <p>ಉತ್ತರ :</p> <p>(i) ಆಮ್ಲ ಮತ್ತು ಪ್ರತ್ಯಾಮ್ಲಗಳ ನಡುವಿನ ಕ್ರಿಯೆ ಲವಣ ಮತ್ತು ನೀರು ಉಂಟುಮಾಡುವುದನ್ನು ತಟಸ್ಥೀಕರಣ ಕ್ರಿಯೆ ಎನ್ನುವರು.</p>	1

ಪ್ರಶ್ನೆ ಸಂಖ್ಯೆ	ಪ್ರಶ್ನಾನುಸಾರ ಮೌಲ್ಯಮಾಪನ	ಅಂಕಗಳು
(ii)	<p>ಕ್ಲೋರ್ - ಆಲ್ಕಲಿ ಪ್ರಕ್ರಿಯೆಯ ಉತ್ಪನ್ನಗಳು :</p> <ul style="list-style-type: none"> ★ ಹೈಡ್ರೋಜನ್ 1/2 ★ ಕ್ಲೋರಿನ್ 1/2 ★ NaOH ಒಳಗೊಂಡಿರುವ ಬೈನ್ 1/2 <p>ಹೈಡ್ರೋಜನ್‌ನ ಉಪಯೋಗಗಳು :</p> <ul style="list-style-type: none"> ★ ಇಂಧನವಾಗಿ ★ ಕೃತಕ ಬೆಣ್ಣೆ ★ ರಸಗೊಬ್ಬರಗಳಿಗೆ ಅಮೋನಿಯಾ (ಯಾವುದಾದರೂ ಒಂದು) 1/2 <p>ಕ್ಲೋರಿನ್‌ನ ಉಪಯೋಗಗಳು :</p> <ul style="list-style-type: none"> ★ ನೀರಿನ ಶುದ್ಧೀಕರಣದಲ್ಲಿ ★ ಈಜುಕೊಳಗಳ ಸ್ವಚ್ಛಕಾರಕವಾಗಿ ★ ಪಿ.ವಿ.ಸಿ. ಮತ್ತು ಸಿ.ಎಫ್.ಸಿ.ಗಳ ತಯಾರಿಕೆಯಲ್ಲಿ ★ ಸೋಂಕುನಾಶಕವಾಗಿ ★ ಕೀಟನಾಶಕವಾಗಿ (ಯಾವುದಾದರೂ ಒಂದು) 1/2 <p>NaOH ಉಪಯೋಗಗಳು :</p> <ul style="list-style-type: none"> ★ ಲೋಹಗಳ ಜಿಡ್ಡು ನಿವಾರಣೆಯಲ್ಲಿ ★ ಕಾಗದ ತಯಾರಿಕೆಯಲ್ಲಿ ★ ಸಾಬೂನು ಮತ್ತು ಮಾರ್ಜಕಗಳ ತಯಾರಿಕೆಯಲ್ಲಿ ★ ಕೃತಕ ನೂಲುಗಳ ತಯಾರಿಕೆಯಲ್ಲಿ (ಯಾವುದಾದರೂ ಒಂದು) 1/2 	4