

B

വാർഷിക മൂല്യനിർണ്ണയം 2018-19

ഉദ്യോഗനം - രണ്ടാം ദിവസം

ക്ലാസ് : 1


പേര്: _____ സ്കൂൾ: _____

വാർഷിക പാഠ്യപുസ്തകം

താമരപ്പുഴ

നിരവധാനമാണ്

ചിത്രം നോക്കി ലഘുവാക്യങ്ങൾ എഴുതൂ.



വീൻ വെളിച്ചിപ്പേക്ക് ചാടുന്നു


താമരപ്പുഴ വിടരണം നിൽക്കുന്നു

താമര വെളിച്ചിപ്പേക്ക് ചാടുന്നു


മുൻ വെളിച്ചം ഇടിക്കുന്നു


കോളി നോക്കി നിൽക്കുന്നു

കോൽ വരണിൻമേൽ ഇരിക്കുന്നു



ഓരോ സഞ്ചിയിലെയും ചമ്പക്കളുടെ എണ്ണം എഴുതൂ.

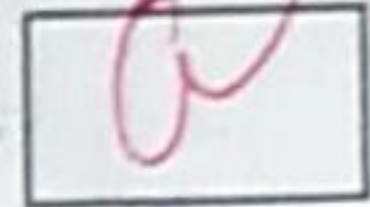




വർഷം 8

വണ്ടിയിൽ എത്ര പേർ


നിലവാരസൂചിക



ഓരോ വണ്ടിയിലും കയറിയത് എത്രപേരെന്ന് കണ്ടെത്തൂ.



മുഗങ്ങൾ	9
പക്ഷികൾ	6
ആകെ	$9 + 6 = 15$




മുഗങ്ങൾ	12
പക്ഷികൾ	5
ആകെ	$12 + 5 = 17$



മുഗങ്ങൾ	17
പക്ഷികൾ	4
ആകെ	$17 + 4 = 21$

പഞ്ചവൻകാട്ടിൽ ആകെ 14 മാനുകളാണുണ്ടായിരുന്നത്. കുറേപ്പേർ ജഗുവിന്റെ കൂടെ നാട്ടിലേയ്ക്കു പോയി. കാട്ടിൽ ഇപ്പോൾ 8 മാനുകൾ ഉണ്ട്. എന്നാൽ നാട്ടിലേക്കു പോയത് എത്ര മാനുകൾ?

$14 - 8 = 6$ മാനുകൾ



വാഹനങ്ങളെ ശരിയായി തരംതിരിക്കൂ.



കാളവണ്ടി



ഹെലികോപ്റ്റർ



തീവണ്ടി



ഓട്ടോറിക്ഷ



തോണി



കപ്പൽ



കാർ



ബസ്സ്



ബോട്ട്




വിമാനം

കരയിലൂടെ സഞ്ചരിക്കുന്നവ	വെള്ളത്തിലൂടെ സഞ്ചരിക്കുന്നവ	ആകാശത്തിലൂടെ സഞ്ചരിക്കുന്നവ
<p>തീവണ്ടി ഓട്ടോറിക്ഷ കാർ ബസ്സ് കാളവണ്ടി</p>	<p>തോണി കപ്പൽ ബോട്ട്</p>	<p>ഹെലികോപ്റ്റർ വിമാനം</p>

കൂടുതൽ ആളുകൾക്ക് യാത്ര ചെയ്യാവുന്ന രണ്ടു വാഹനങ്ങൾ കണ്ടെത്തി എഴുതൂ.

ബസ്സ് തീവണ്ടി തീവണ്ടി



ഓരോരുത്തർക്കും കിട്ടിയ രൂപയും നാണയങ്ങളും എഴുതൂ.



8 രൂപ

5 1 2



12 രൂപ

10 1 1



9 രൂപ

5 2 2

ജഗുവിന് കിട്ടിയത് 24 രൂപയാണ്. അതിനു തുല്യമായ രൂപയും നാണയങ്ങളും വരയ്ക്കൂ.

24 രൂപ

10 10 00

2 2

ജഗു

