

വാർഷിക മൂല്യനിർണ്ണയം 2015-16

സ്റ്റാൻഡേർഡ് : II

ഉദ്ദേശ്യം - മൂന്നാം ദിവസം

പേര്: സ്കൂൾ:.....

വർഷം 10

തൈകൾ വാങ്ങാം



| വിലവിവരപ്പട്ടിക | |
|-----------------|-----|
| ഇനം | രൂപ |
| റോസ | 45 |
| പിച്ചി | 30 |
| ഡാലിയ | 15 |
| മുല്ല | 18 |

| വിലവിവരപ്പട്ടിക | |
|-----------------|-----|
| ഇനം | രൂപ |
| ലക്ഷ്മിതരു | 40 |
| വേപ്പ് | 20 |
| മാവ് | 50 |
| തെങ്ങ് | 95 |

ശരത്ത്

| | വില |
|--|-----|
| | |
| | |
| | |

മീനൂ

| | വില |
|-------|-----|
| മുല്ല | |
| റോസ | |
| | |

സബീന

| | വില |
|--|-----|
| | |
| | |
| | |

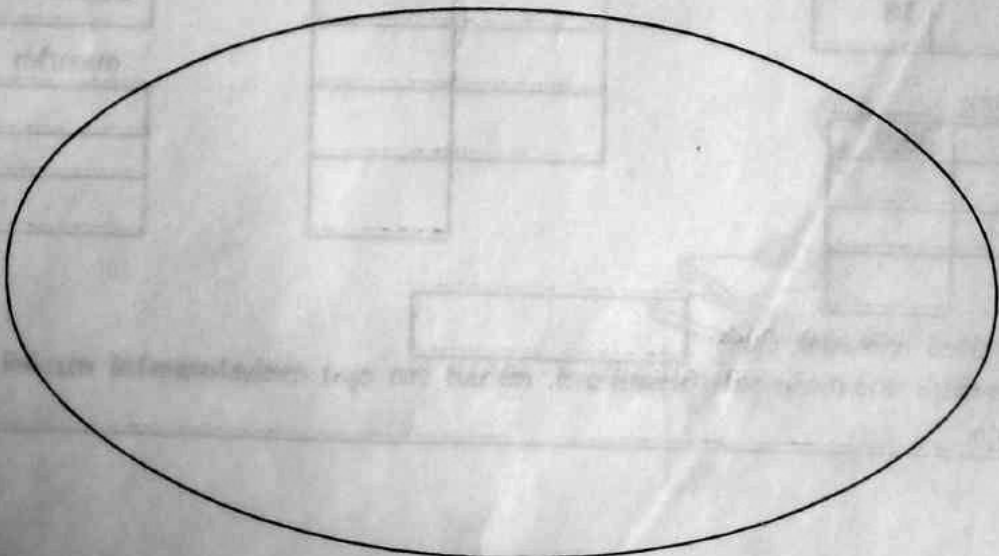

മീനൂ കടയിൽ നൽകിയ തുക നിത്യ തെങ്ങും റോസയുമാണ് വാങ്ങിയത്. അവൾ 200 രൂപ നൽകിയെങ്കിൽ ബാക്കി എത്ര രൂപ കിട്ടും.




ബോർഡുകൾ തയ്യാറാക്കാം

ശാസ്ത്രം - പാഠ്യപുസ്തകം

II - ശാസ്ത്രം





സംഭാഷണം എഴുതാം



അമ്മ : മോൾ, ഇതുവരെ ഏതുവിടെയായിരുന്നു?

മീര : ഞങ്ങൾ മാന്ത്രികപ്പുരവതാനിയിൽ മേളകാണാൻ പോയതാ.

അമ്മ :

മീര :

അമ്മ :

മീര :



അമ്മ :

മീര :





ധയം എഴുതാം



മൂല്യനിർണയം

പദപ്രശ്നം

| | | | | |
|---|---|---|--|---|
| | 2 | 4 | | |
| 1 | | | | 5 |
| | | 3 | | |
| | | | | |

വലത്തോട്ട്

1. കൂട്ടികൾ യാത്ര ചെയ്തത്ൽ ആണ്
3. തിരയുള്ള സ്ഥലം
4. സവാരി മൃഗം

താഴോട്ട്

2. ജ്യൂസ് ഉണ്ടാക്കാൻ ഉപയോഗിച്ചത്
3. ഏതു മത്സരത്തിനാണ് സബീന പങ്കെടുത്തത്?
5. ഓടിക്കഴിഞ്ഞാൽ അൽപ്പസമയം